

דף עבודה לכיתה ה' – הכרת השבר הפשוט

הכרת השבר הפשוט

1. איזה חלק של המלבן צבוע?



הקיפו את התשובה הנכונה.

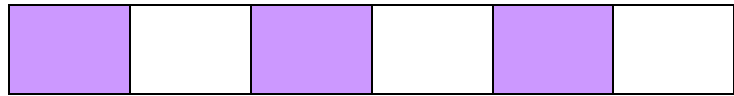
$$\frac{3}{3}$$

$$\frac{3}{4}$$

$$\frac{2}{3}$$

$$\frac{1}{4}$$

2. איזה חלק של המלבן צבוע?



הקיפו את התשובה הנכונה.

$$\frac{1}{3}$$

$$\frac{3}{6}$$


$$\frac{2}{3}$$

$$\frac{1}{6}$$

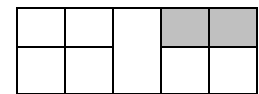

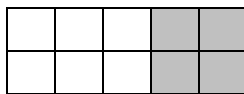
3. צבעו $\frac{5}{8}$



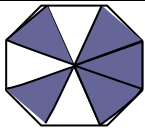
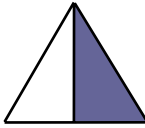
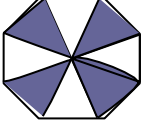



4. צבעו חלק קטן מחצי:



5. הקיפו את הצורה שבה החלק הצבוע הוא: $\frac{2}{5}$



6. השלימו את הטבלה:

החלק שאינו צבוע		החלק הצבוע		המחשה
השבר במילים	השבר בספרות	השבר במילים	השבר בספרות	
				
				
				
				
				
				

7. מי אני?

- א. המונה שלי 3 והמכנה שלי 4:
- ב. המונה שלי 1 והמכנה שלי 5:
- ג. המונה שלי 2 והמכנה שלי 9:
- ד. המכנה שלי 8 והמונה שלי 3:
- ה. המכנה שלי 6 והמונה שלי 5:

8. מיינו את המספרים הבאים וכתבו אותם במקום המתאים בטבלה:

$$\frac{4}{3} \quad \frac{4}{9} \quad \frac{1}{4} \quad 1\frac{2}{5} \quad \frac{6}{7} \quad \frac{3}{2} \quad 4\frac{2}{5} \quad \frac{2}{3} \quad 3\frac{1}{4} \quad \frac{8}{7}$$

מספרים מעורבים	שברים גדולים מ-1	שברים קטנים מ-1