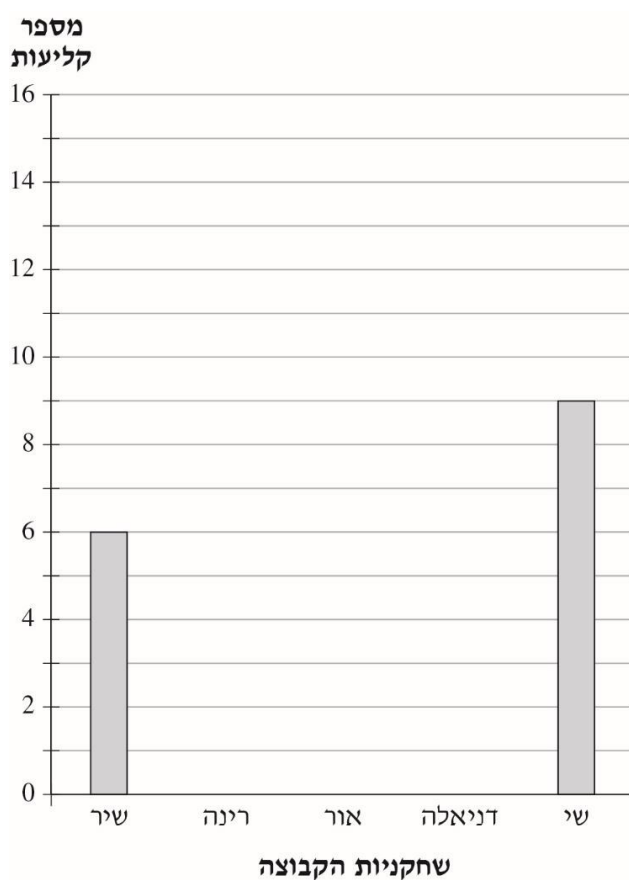


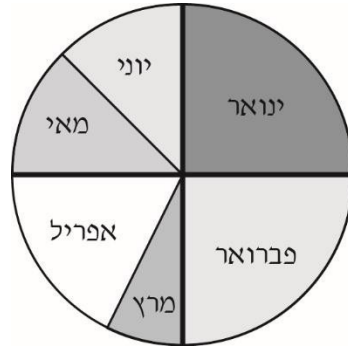
**שאלה 1**

ממוצע הקליעות לסל במשחק כדורסל היה 6 קליעות לשחקנית.  
 בדיאגרמה שלפניכם מסומן מספר הקליעות של שתיים מבין חמש השחקניות.  
**השלימו בדיאגרמה אפשרות למספר הקליעות של השחקניות האחרות.**

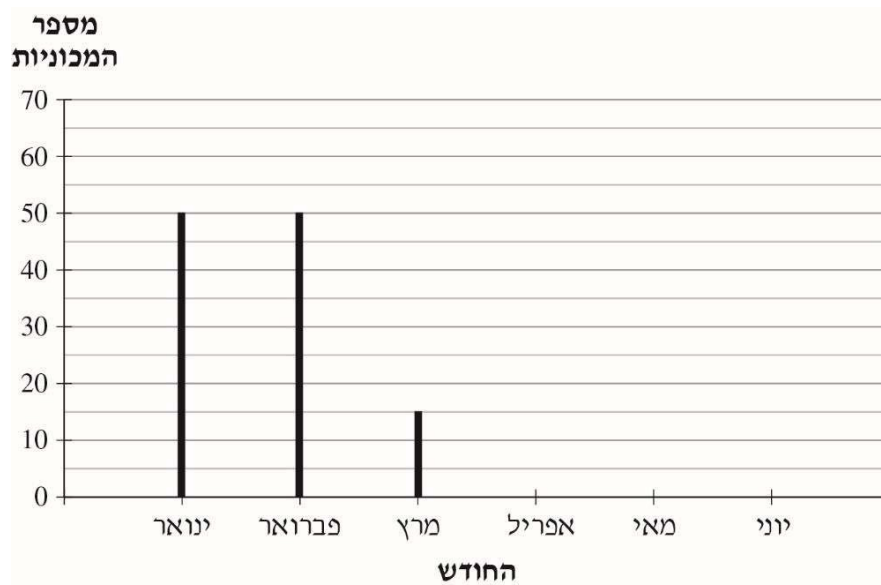


## שאלה 2

דנה, אשת מכירות בסוכנות למכירת מכוניות, מכרה 200 מכוניות במשך 6 חודשים. הדיאגרמה שלפניכם מתארת את מספר המכוניות שמכרה בכל חודש במשך ששת החודשים האלה:



דנה רצתה להציג את הנתונים האלה גם בדיאגרמת עמודות. היא סרטטה עמודות רק לחודשים ינואר, פברואר ומרץ, כפי שמוצג בדיאגרמה שלפניכם:



א. בחודש מאי ובחודש יוני מכרה דנה מספר שווה של מכוניות.

כמה מכוניות מכרה בכל אחד מהחודשים האלה?

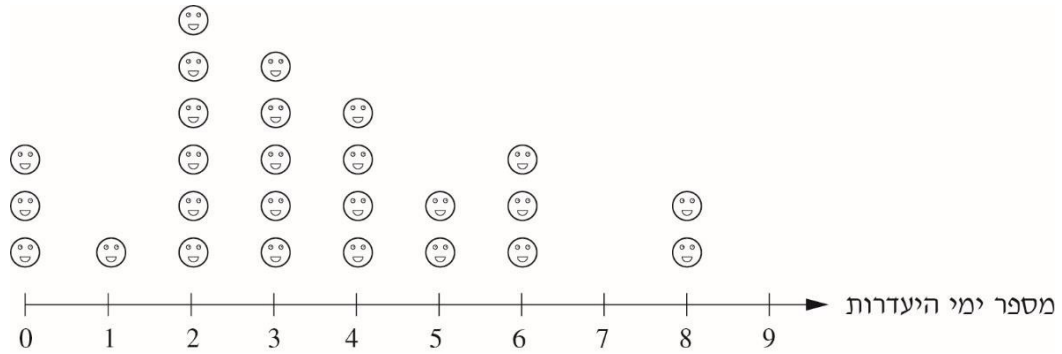
תשובה: \_\_\_\_\_ מכוניות

ב. כמה מכוניות מכרה דנה בחודש אפריל?

תשובה: \_\_\_\_\_ מכוניות

### שאלה 3

המורה של כיתה ה-1 בבית הספר "חצב" בדקה כמה ימים נעדר כל אחד מתלמידי הכיתה במשך שנת הלימודים והציגה את הנתונים בדיאגרמה. כל 😊 בדיאגרמה מייצג תלמיד אחד.



א. כמה תלמידים נעדרו 3 ימים במשך שנת הלימודים?

תשובה: \_\_\_\_\_ תלמידים

ב. כמה תלמידים לא נעדרו במשך שנת הלימודים?

תשובה: \_\_\_\_\_ תלמידים

ג. כמה תלמידים נעדרו יותר מ-4 ימים במשך שנת הלימודים?

תשובה: \_\_\_\_\_ תלמידים

ד. כמה תלמידים נעדרו 7 ימים במשך שנת הלימודים?

תשובה: \_\_\_\_\_ תלמידים

לפניכם מערכת השעות של יהונתן ביום א' בבית הספר.

משך הפעילות	שעת הסיום	שעת ההתחלה	הפעילות
דקות	09:40	08:00	שיעור אנגלית
דקות	09:55	09:40	הפסקת אוכל בכיתה 
דקות	10:15	09:55	הפסקה ראשונה בחצר בית הספר
45 דקות	11:00	10:15	שיעור מדעים
45 דקות	11:45	11:00	שיעור מתמטיקה
דקות	12:00	11:45	הפסקה שנייה בחצר בית הספר 
50 דקות	12:50	12:00	שיעור אמנות

א. השלימו את הנתונים החסרים בטבלה.

ב. כמה דקות יהונתן נמצא בהפסקות בחצר בית הספר ביום א'?

ג. השלימו:

ביום א' יהונתן נמצא בבית הספר \_\_\_\_\_ דקות,

שמתוכן הוא נמצא בשיעורים \_\_\_\_\_ שעות.