

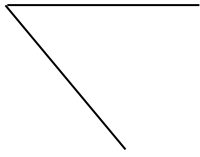
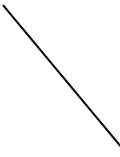
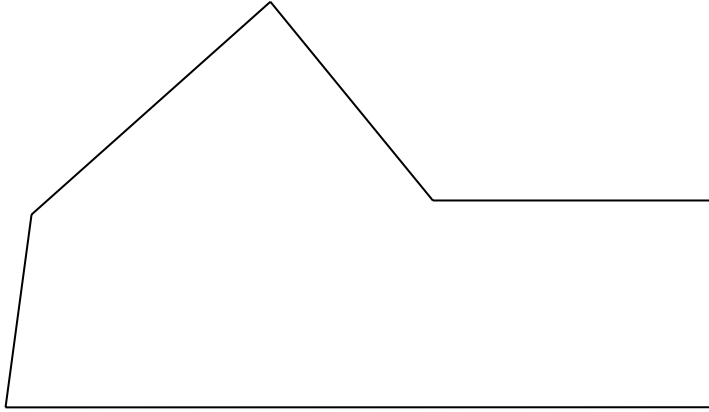


1. השלימו את השרטוטים הבאים כך שיתקבל קו מהסוג הרשום מעל כל שרטוט:

ב. קו עקום סגור 	א. קו שבור סגור 
ד. קו שבור פתוח 	ג. קו שבור 

2. לפניכם מצולע:



א. מה שם המצולע שלפניכם?

\_\_\_\_\_

\_\_\_\_\_

\_\_\_\_\_

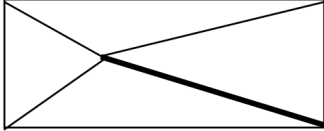
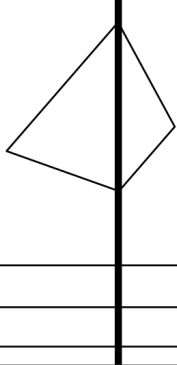
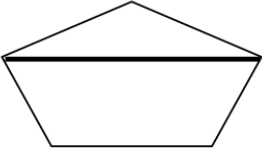
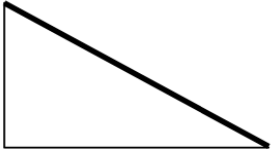
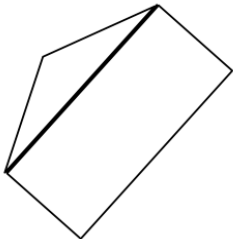
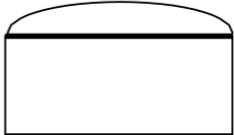
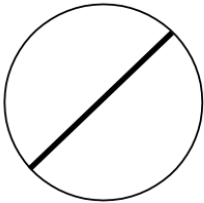

ב. העבירו אלכסון אחד במצולע זה כך שכולו יהיה בתחום הפנימי של המצולע.

ג. העבירו אלכסון נוסף במצולע כך שכולו יהיה מחוץ למצולע.

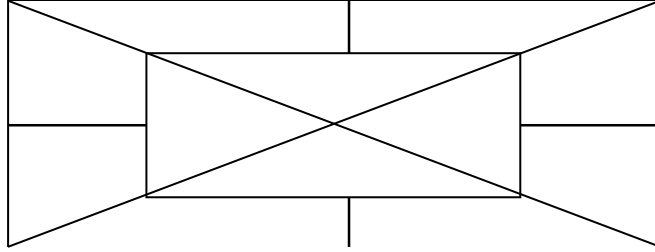
ד. העבירו אלכסון נוסף כך שרק חלק ממנו יהיה בתחום הפנימי של המצולע.

3. מבין השרטוטים הבאים, סמנו אך ורק את השרטוטים שבהם הקו העבה הוא אלכסון.

הסבירו את החלטתכם:

<p>ב.</p>  <p>_____</p> <p>_____</p> <p>_____</p>	<p>א.</p>  <p>_____</p> <p>_____</p> <p>_____</p>
<p>ד.</p>  <p>_____</p> <p>_____</p> <p>_____</p>	<p>ג.</p>  <p>_____</p> <p>_____</p> <p>_____</p>
<p>ו.</p>  <p>_____</p> <p>_____</p> <p>_____</p>	<p>ה.</p>  <p>_____</p> <p>_____</p> <p>_____</p>
<p>ח.</p>  <p>_____</p> <p>_____</p> <p>_____</p>	<p>ז.</p>  <p>_____</p> <p>_____</p> <p>_____</p>

4. התבוננו בשרטוט:

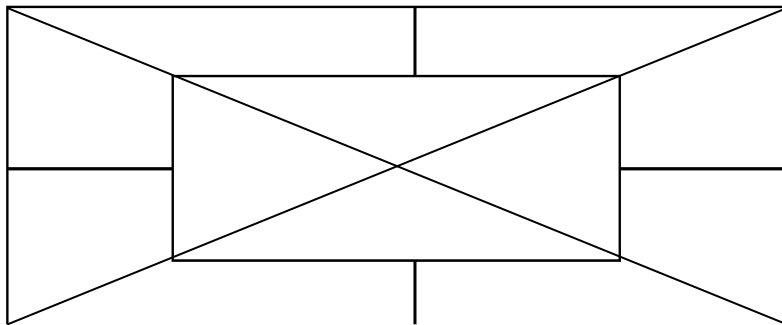


א. מצאו זוג קטעים מקבילים וצבעו באדום.

ב. מצאו זוג קטעים מאונכים בשרטוט וצבעו בכחול.

ג. מצאו זוג קטעים שאינם מקבילים ואינם מאונכים וצבעו בירוק.

5. התבוננו בשרטוט:



א. מצאו מרובע וצבעו באדום.

ב. מצאו משושה וצבעו בכחול.

ג. מצאו משולשים. כמה משולשים יש בשרטוט?