




דף עבודה לכיתה ה' – משמעות השבר העשרוני

בכל סעיף השלימו את החסר : ציור , שבר , מספר עשרוני בספרות



כתבו בספרות:

עשרים וחמש מאיות _____

שבע מאות _____

עשרים ושבע עשיריות _____

חמש אלפיות _____

כתבו את המספר המתאים:

שלושה שלמים ושתי עשיריות _____

חמש עשיריות ושמונה מאיות _____

ארבעה שלמים, חמש מאיות ושש אלפיות _____

שני שלמים, שבע עשיריות ומאית אחת _____

שלוש עשיריות, שתי מאיות ושמונה אלפיות _____

חמש עשרה מאיות _____

ספרת העשרות 4, סיפרת העשיריות גדולה ב-4 מספרת העשרות _____

ספרת העשיריות 9, ספרת המאיות קטנה פי 3 מספרת העשיריות _____

ספרת האחדות 1, ספרת המאיות גדולה. ב-5 מספרת האחדות _____

ספרת המאיות 6, ספרת האלפיות קטנה פי 3 מספרת המאיות _____

ספרת המאיות מחצית מספרת האלפיות _____

מקמו את הנקודה העשרונית בהתאם:

3125 1 היא ספרת האחדות

3125 5 היא ספרת העשיריות

3125 5 היא ספרת המאיות

3125 5 היא ספרת האלפיות

3125 3 היא ספרת העשיריות

לפניכם הספרות : 1,9,0,4


בכל משימה השתמשו בכל הספרות , רק פעם אחת בכל ספרה :

- א. רשמו מספר עשרוני הקטן ביותר: _____
- ב. רשמו מספר עשרוני שיש בו ארבע מאיות: _____
- ג. רשמו מספר עשרוני הקטן מ-תשעה שלמים: _____
- ד. רשמו מספר עשרוני הגדול ביותר: _____
- ה. רשמו מספר עשרוני הקרוב ביותר לחצי: _____

השלימו מספרים מתאימים :


0.67 > _____	1.5 < _____	0.2 > _____	0.04 < _____	1.2 < _____
0.67 > _____	1.5 < _____	0.2 > _____	0.04 < _____	1.2 < _____
0.1 < _____	0.1 < _____	0.1 < _____	0.1 < _____	0.1 < _____

משמעות של עשירית על ציר המספרים:

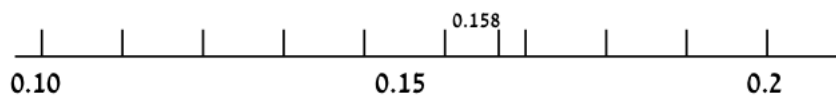


צפיפות מספרים בעזרת ציר מספרים:

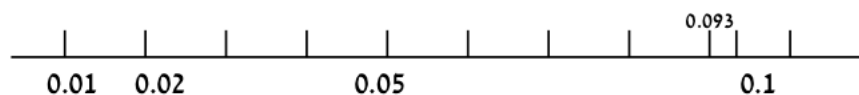
עשיריות



מאיות



אלפיות



כתבו מספרים מתאימים על ציר המספרים

