

הכרת השבר הפשוט

איזה חלק של המלבן צבוע?



הקיפו את התשובה הנכונה.


$$\frac{3}{3}$$

$$\frac{3}{4}$$

$$\frac{2}{3}$$

$$\frac{1}{4}$$

איזה חלק של המלבן צבוע?



הקיפו את התשובה הנכונה.

$$\frac{1}{3}$$

$$\frac{3}{6}$$


$$\frac{2}{3}$$

$$\frac{1}{6}$$



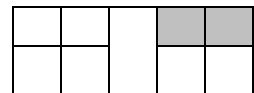


$$\frac{5}{8}$$

צבעו

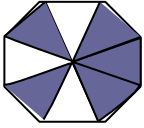

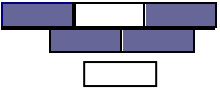


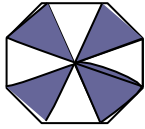



צבעו חלק קטן מחצי

הקיפו את הצורה שבה החלק הצבוע הוא: $\frac{2}{5}$



השלימו את הטבלה:

החלק שאינו צבוע		החלק הצבוע		המחשה
השבר במילים	השבר בספרות	השבר במילים	השבר בספרות	
				
				
				
				
				
				
				

מי אני?

- א. המונה שלי 3 והמכנה שלי 4: _____
- ב. המונה שלי 1 והמכנה שלי 5: _____
- ג. המכנה שלי 6 והמונה שלי 5: _____

ד. המונה שלי 2 והמכנה שלי 9: _____

ה. המכנה שלי 8 והמונה שלי 3: _____

מיינו את המספרים הבאים וכתבו אותם במקום המתאים בטבלה:

$\frac{4}{3}$ $\frac{4}{9}$ $\frac{1}{4}$ $1\frac{2}{5}$ $\frac{6}{7}$ $\frac{3}{2}$ $4\frac{2}{5}$ $\frac{2}{3}$ $3\frac{1}{4}$ $\frac{8}{7}$

מספרים מעורבים	שברים גדולים מ-1	שברים קטנים מ-1