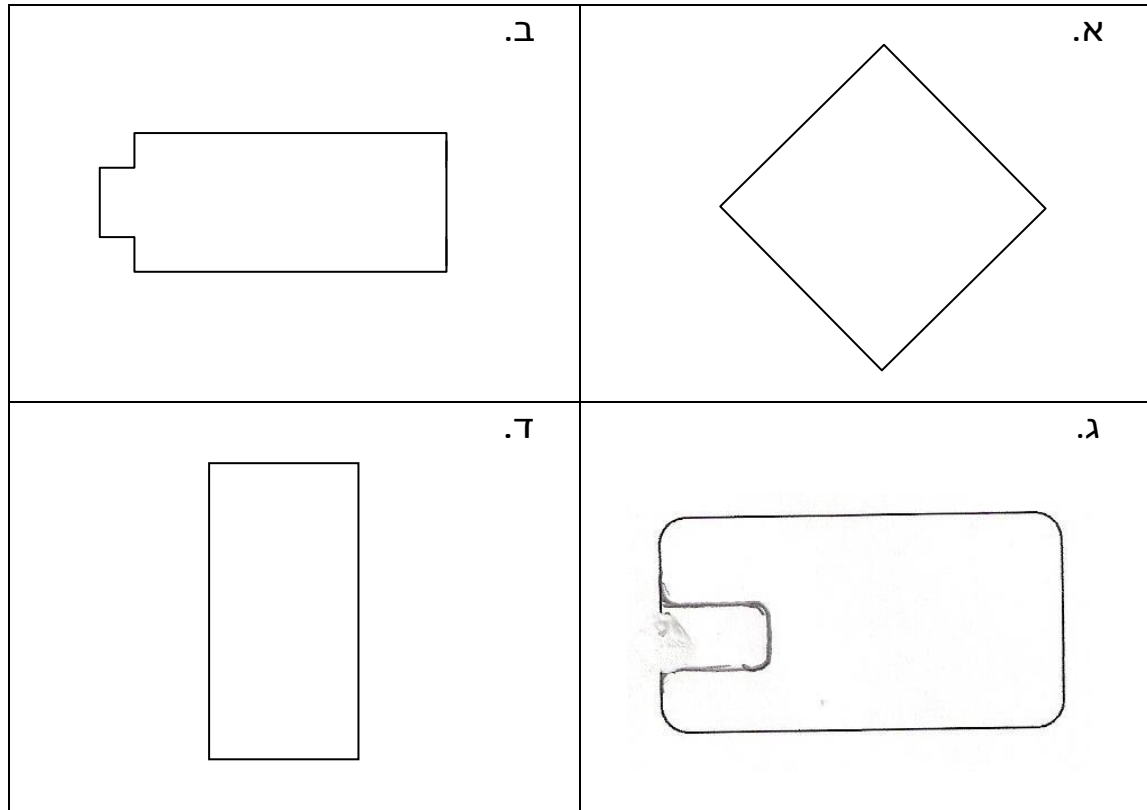


מלבן וריבוע

1. לפניכם הצורות הבאות הקיפו את המצולעים שאינם מלבנים.



א. הקיפו את המצולעים שאינם מלבנים.

ב. מצאו צורות שבהן קטעים מקבילים זה לזה.

צבעו זוג אחד של קטעים מקבילים באדום.

ג. מצאו צורות שבהן קטעים מאונכים זה לזה.

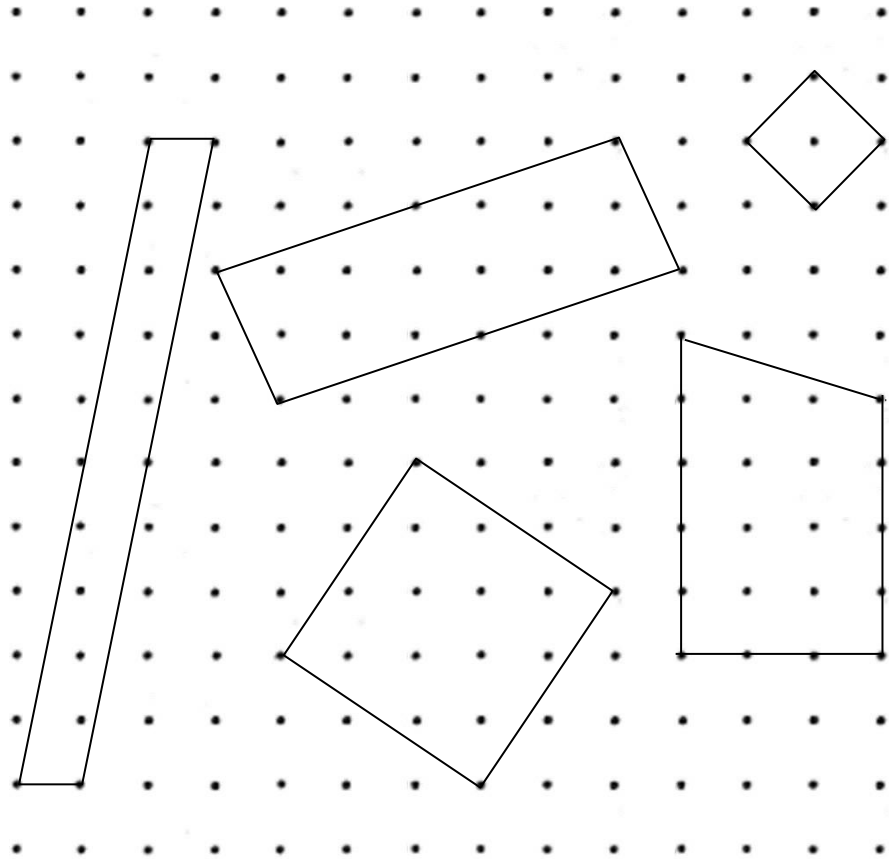
צבעו זוג אחד של קטעים מאונכים באדום.

ד. מצאו צורות שבהן שלשות של קטעים מקבילים זה לזה.

צבעו 2 שלשות כאלה בכחול.

ה. מצאו צורה אחת שיש בה קו סימטרי אחד בלבד.
סמנו את קו הסימטריה בצהוב

2. לפניכם מרובעים.

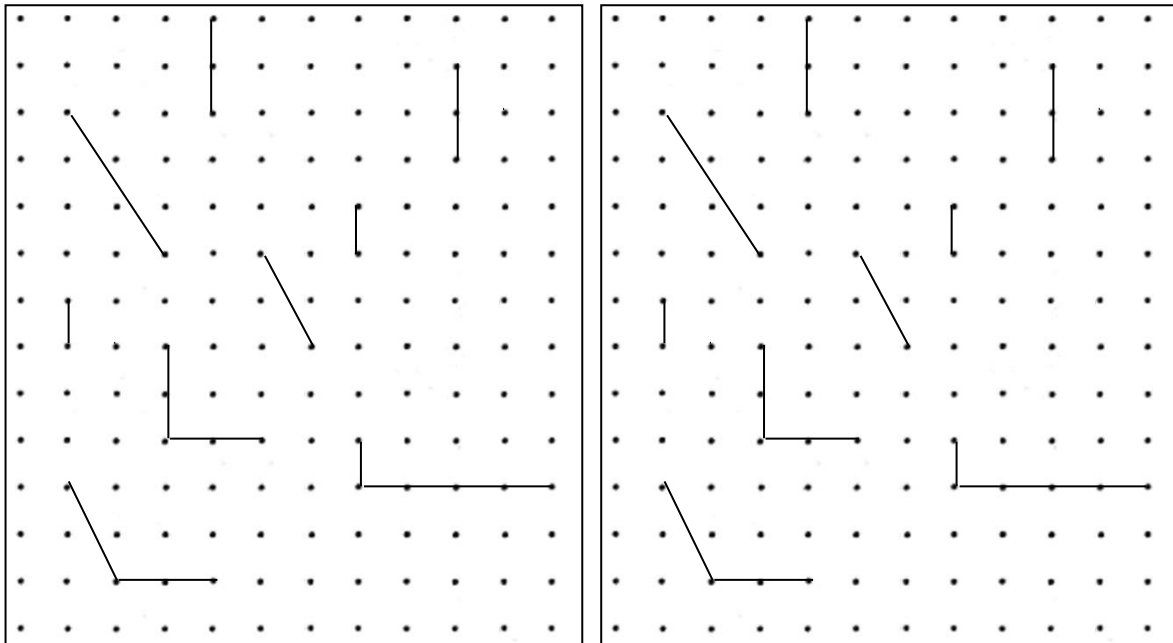


הקיפו רק מרובעים שהם מלבנים.

3. השלימו כל קו למלבן שאינו ריבוע.

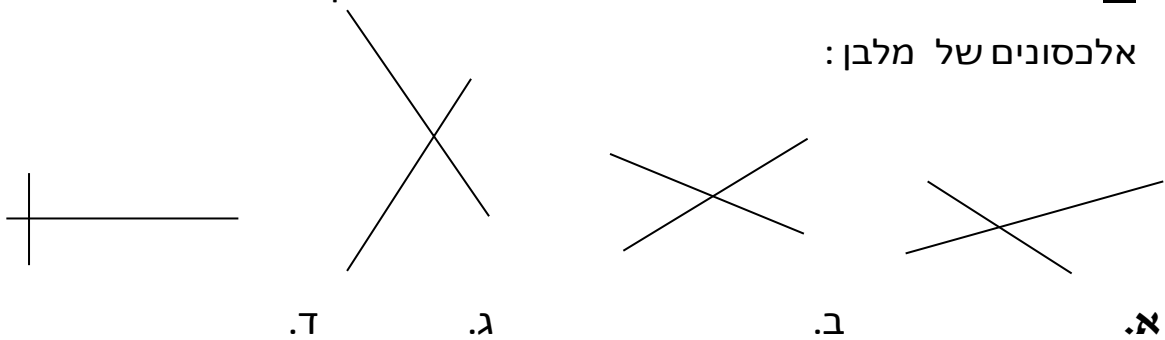
השלימו כל קו

לריבוע.



4. לפניכם אלכסונים של מרובעים שונים. מצאו זוג קטעים שהם

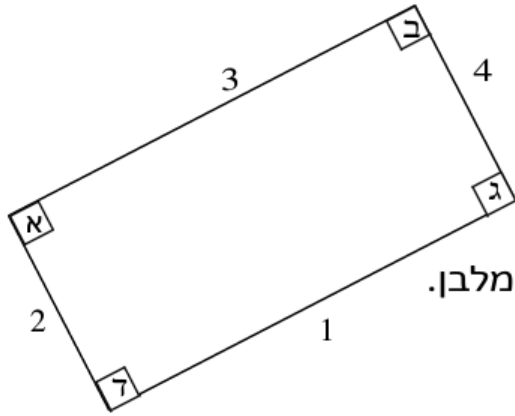
אלכסונים של מלבן:



5. לפניכם מלבן, צלעותיו מסומנות בספרות 1, 2, 3, ו-4 וזוויותיו

מסומנות באותיות

א, ב, ג ו-ד. רשמו נכון או לא נכון ליד כל משפט.



א. הצלעות 1 ו-2 מקבילות זו לזו.

ב. הצלעות 3 ו-1 מאונכות זו לזו.

ג. הצלעות 2 ו-4 מקבילות זו לזו.

ד. הזווית ד' היא זווית הכי גדולה במלבן.

ה. הזוויות ב ו-ג שוות זו לזו.

ו. הזוויות ב, ג, ד הן זוויות ישרות.